

Matemática | Geografia | História

UNICAMP
vestibular
2015

Instruções para a realização da prova

- Neste caderno, deverão ser respondidas as questões das provas de **Matemática** (questões de 1 a 6), de **Geografia** (questões de 7 a 12) e de **História** (questões de 13 a 18).
- **A prova deve ser feita a caneta esferográfica preta. Utilize apenas o espaço reservado (pautado) para a resolução das questões.**
- **Atenção:** nas questões que exigem cálculo, não basta escrever apenas o resultado final. É necessário mostrar a resolução ou o raciocínio utilizado para responder às questões.
- **A duração total da prova é de quatro horas.**

ATENÇÃO

Os rascunhos **não** serão considerados na correção.

VESTIBULAR UNICAMP 2015 – 2ª FASE
MATEMÁTICA | GEOGRAFIA | HISTÓRIA

ORDEM

INSCRIÇÃO

ESCOLA

SALA

LUGAR NA
SALA

NOME

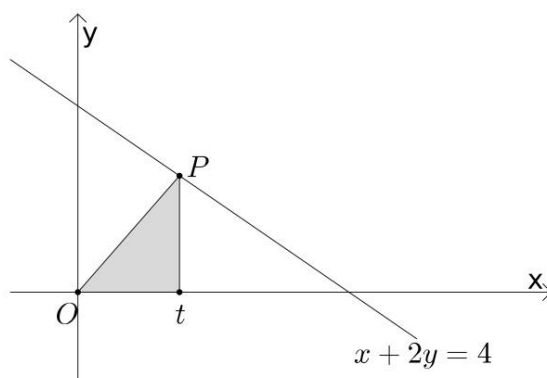
ASSINATURA DO CANDIDATO

COMVEST
Comissão Permanente para os Vestibulares


UNICAMP
PRÓ-REITORIA DE GRADUAÇÃO

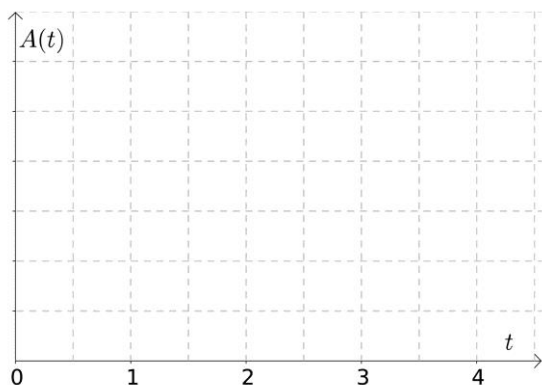
RASCUNHO

4. Seja r a reta de equação cartesiana $x + 2y = 4$. Para cada número real t tal que $0 < t < 4$, considere o triângulo T de vértices em $(0, 0)$, $(t, 0)$ e no ponto P de abscissa $x = t$ pertencente à reta r , como mostra a figura abaixo.



- Para $0 < t < 4$, encontre a expressão para a função $A(t)$, definida pela área do triângulo T , e esboce o seu gráfico.
- Seja k um número real não nulo e considere a função $g(x) = k/x$, definida para todo número real x não nulo. Determine o valor de k para o qual o gráfico da função g tem somente um ponto em comum com a reta r .

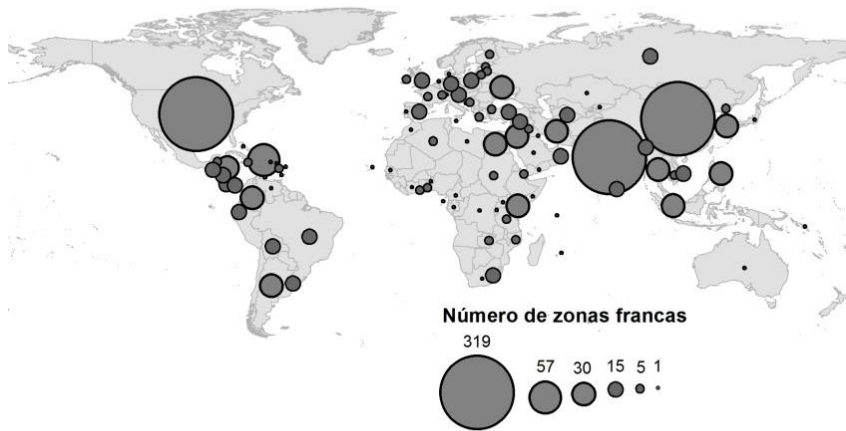
Resolução (será considerado apenas o que estiver dentro deste espaço).



RASCUNHO

7.

Número de Zonas Francas oficiais por país em 2008



Fonte: François Bost (org.), *Atlas Mondial des Zones Franches*. France: La Documentation Française, 2010. p.23.

- Apresente dois fatores explicativos para a difusão das zonas francas no mundo contemporâneo.
- Mencione a principal Zona Franca existente no Brasil e aponte uma intenção do Estado brasileiro ao implantá-la como instrumento de uma política territorial.

Resolução (será considerado apenas o que estiver dentro deste espaço).

RASCUNHO

10. A água utilizada para os mais diversos fins não provém apenas dos reservatórios aquáticos que se podem ver (rios, lagos, lagoas, etc.), mas também fazem parte dos recursos hídricos os aquíferos, importantes reservatórios subterrâneos que são responsáveis pelo armazenamento da maior parte da água doce disponível para o consumo humano. No Estado de São Paulo, por exemplo, os aquíferos têm importância significativa, pois abastecem quase metade do território estadual.

(Adaptado de *As águas subterrâneas do Estado de São Paulo*. Governo do Estado de São Paulo, Secretaria do Meio Ambiente. São Paulo: Instituto Geológico, 2012, p. 5.)

- a) O que é um aquífero e qual o seu processo natural de formação?

- b) Explique como as águas superficiais (rios, lagos, lagoas, etc.) relacionam-se com as águas dos aquíferos e aponte um tipo de atividade econômica que faz intenso uso das águas do Aquífero Guarani, especialmente nos períodos de estiagem.

Resolução (será considerado apenas o que estiver dentro deste espaço).

RASCUNHO

11. A erosão dos solos é um fenômeno natural e acontece em áreas onde existe certa declividade. O delta do rio Nilo, por exemplo, é historicamente conhecido pela deposição de sedimentos férteis que provêm da erosão dos solos na Etiópia, ou seja, em alguns lugares a erosão e a deposição dos sedimentos contribuem para a manutenção da fertilidade natural dos solos. Durante séculos a fertilidade do rio Nilo se manteve, mas a construção de barragens, para controle do regime hídrico, alterou esse equilíbrio. Os problemas relacionados à erosão são agravados quando as taxas de perda de solo ultrapassam certos níveis naturais, o que normalmente resulta da falta de práticas conservacionistas.

(Adaptado de A. T. Guerra e M. do C. O. Jorge. *Processos erosivos e recuperação de áreas degradadas*. São Paulo: Editora Oficina de Textos, 2013, p.8.)

- a) Explique o que são erosão e assoreamento.
- b) Em rios das áreas tropicais, que sinal evidencia a ocorrência de erosão? Aponte uma causa da erosão em áreas urbanas periféricas das grandes cidades de regiões tropicais.

Resolução (será considerado apenas o que estiver dentro deste espaço).

RASCUNHO

14. “Guerreiros a pé e cavaleiros fizeram um caminho através dos cadáveres. Mas tudo isso ainda era pouca coisa. Fomos ao Templo de Salomão, onde os sarracenos tinham o costume de celebrar seus cultos. O que se passou nestes lugares? Se dissermos a verdade, ultrapassaremos o limite do que é possível crer. Será suficiente dizer que, no Templo e no pórtico de Salomão, cavalgava-se em sangue até os joelhos dos cavaleiros e até o arreio dos cavalos. Justo e admirável julgamento de Deus, que quis que este lugar recebesse o sangue daqueles que blasfemaram contra Ele durante tanto tempo.”

(Raymond d’Aguiller, *Historia Francorum qui ceperunt Jerusalem*. <http://www.fordham.edu/halsall/source/raymond-cde.asp#jerusalem2>. Acessado em 01/10/2014.)

O texto acima se refere à Primeira Cruzada (1096-1099). Responda às questões abaixo.

- a) Identifique um motivo econômico e um motivo político para o movimento das Cruzadas.
- b) Que grupo social liderou esse movimento e como o cronista citado identifica o apoio de Deus ao empreendimento cruzadístico?

Resolução (será considerado apenas o que estiver dentro deste espaço).

RASCUNHO

16. Com a partida de D. João VI, permaneceu como regente do reino do Brasil o príncipe herdeiro. Contrário à ideia de submissão do monarca a uma assembleia, que ele considerava despótica, mas incapaz de deter o rumo dos acontecimentos, D. Pedro habilmente se aproximou de uma facção da elite brasileira, a dos luso-brasileiros.

(Adaptado de Guilherme Pereira das Neves, "Del Imperio lusobrasileño al imperio del Brasil (1789-1822)", em François-Xavier Guerra (org.), *Inventando la nación*. México: FCE, 2003, p. 249.)

Considerando os processos de independência no continente americano,

- a) apresente duas diferenças importantes entre o processo de independência no mundo colonial espanhol e o processo de independência do Brasil.
- b) explique a importância dos luso-brasileiros no governo de D. Pedro I e por que eles foram a causa de diversos conflitos no período.

Resolução (será considerado apenas o que estiver dentro deste espaço).

RASCUNHO

17. Observe o gráfico e responda às questões.

PRODUÇÃO INDUSTRIAL E EMPREGO NOS EUA



(Adaptado de Adam Hart-Davis, *History: the definitive visual guide*. London: DK, 2007, p.385.)

- a) Qual a relação existente entre as duas linhas apresentadas no gráfico?
- b) Apresente dois motivos para a crise financeira de 1929.

Resolução (será considerado apenas o que estiver dentro deste espaço).

RASCUNHO

Não destacar esta folha

RASCUNHO